

Fiche « Exercices de Révisions », mardi 24 mars.

Écris le nombre correspondant :

8 centaines, 3 dizaines et 1 unité : _____ 8 dizaines, 1 centaine et 8 unités : _____
 4 unités, 3 dizaines et 2 centaines : _____ 3 centaines et 7 unités : _____
 4 dizaines et 6 centaines : _____

Range les nombres suivants en ordre décroissant :

352 - 253 - 523 - 235 - 325 - 532

Écris le bon signe : > < =.

279 _____ 300 + 79

200 + 71 _____ 200 + 60 + 11

372 = 300 + _____

496 _____ 200 + 200 + 80 + 16


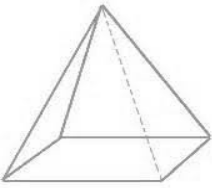
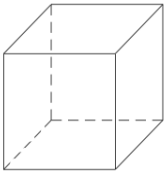
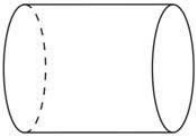
461 _____ 416

100 + 100 + 100 + 70 + 6 _____ 375

Observe l'exemple du tableau et complète-le.

821	Huit-cent-vingt-un	8c 2d 1u	800 + 20 + 1
473			
		2c 8u	
			300 + 50 + 9
	Neuf-cent-quatre-vingt-trois		
610			
		1c 3d 4u	
			500 + 9
	Sept-cent-soixante-douze		

Complète le tableau.

Nom	Nombre de sommets	Nombre d'arêtes	Nombre de faces
			
			
			
			

Lis les énoncés et résous les problèmes.

Dans le souk, Thélyo achète des souvenirs.

Il achète 2 petits vases à 10 €, 4 paires de babouches à 4 € et un magnifique tapis artisanal bleu et blanc avec des scarabées à 68 €.

Combien Thélyo a-t-il dépensé ?

Je dessine la situation	Je fais les opérations
Je réponds à la question	

Les vacances de Maëlyss et Thélyo se finissent. Ils veulent faire un survol des pyramides en montgolfière. Le prix pour un passager est de 38 €. Maëlyss a 105 € dans son porte-monnaie. Combien-lui restera-t-il une fois les billets payés ?

Je dessine la situation	Je fais les opérations
Je réponds à la question	

Entoure la bonne réponse.

Juliette et Valentin ont vu une pyramide Maya qui mesure 24 m 24 kg.

Juliette a acheté 250 g de chocolat 250 L de chocolat.

Valentin a parcouru 500 kg 500 m à dos de lama.

Sur la plage de Copacabana, Juliette a mis sa serviette à 5 km 5 m du bord de l'eau.

Valentin a acheté 2,5 kg d'oranges 2,5 cm d'oranges.

Classe les objets du sac à dos de Juliette du plus lourd au plus léger.

lampe de poche : 117 g duvet : 500 g couteau : 110 g gourde : 950 g

sandwich : 264 g gâteaux : 175 g orange : 150 g un pull : 200 g

trousse de secours : 475 g

Dessine les pièces et les billets nécessaires pour réaliser les sommes demandées.

45 € 52

31 € 98