

## Fiche « Exercices de Révisions », mardi 24 mars.

Écris le nombre correspondant :  
 8 centaines, 3 dizaines et 1 unité : 831      8 dizaines, 1 centaine et 8 unités : 188  
 4 unités, 3 dizaines et 2 centaines : 234      3 centaines et 7 unités : 307  
 4 dizaines et 6 centaines : 640

Range les nombres suivants en ordre décroissant :  
 352 - 253 - 523 - 235 - 325 - 532

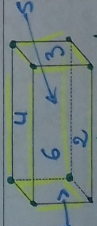
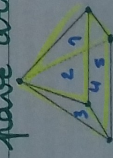
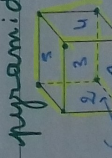

Écris le bon signe :  $>$  ou  $\leq$ .

279  $\leftarrow$  300 + 79      200 + 71  $\leq$  200 + 60 + 11  
 372 = 300 + 70 + 2      496 = 200 + 200 + 80 + 16  
 461  $\rightarrow$  416      100 + 100 + 100 + 70 + 6  $>$  375

Observe l'exemple du tableau et complète-le.

	8c 2d 1u	800 + 20 + 1
821	Huit-cent-vingt-un	
473	Quatre cent soixante-treize	400 + 70 + 3
208	Deux cent huit	200 + 8
359	Trois cent cinquante-neuf	300 + 50 + 9
983	Neuf-cent-quatre-vingt-trois	900 + 80 + 3
610	Six cent dix	600 + 10
134	Cent trente-quatre	100 + 30 + 4
509	Cinq cent neuf	500 + 9
772	Sept-cent-soixante-douze	700 + 70 + 2

Complète le tableau.


Nom	Nombre de sommets	Nombre d'arêtes	Nombre de faces
 parallélepède	8	12	6
 pyramide	5	8	5
 cube	8	12	6
 cylindre	0	2	3

Lis les énoncés et résous les problèmes.

Dans le souk, Thélyo achète des souvenirs. Il achète 2 petits vases à 10 €, 4 paires de babouches à 4 € et un magnifique tapis artisanal bleu et blanc avec des scarabées à 68 €.

Combien Thélyo a-t-il dépensé ?

Je dessine la situation



Je fais les opérations

$2 \times 10 = 20$  ou  $10 + 10 = 20 \rightarrow$  vase  
 $4 \times 4 = 16$  ou  $4 + 4 + 4 + 4 = 16$   
 4 p. babouches


Total :

$20 + 16 + 68 = 104 \text{ €}$

Je réponds à la question Thélyo a dépensé 104 €.

Les vacances de Maëlyss et Thélyo se finissent. Ils veulent faire un survol des pyramides en montgolfière. Le prix pour un passager est de 38 €. Maëlyss a 105 € dans son porte-monnaie. Combien-lui restera-t-il une fois les billets payés ?

Je dessine la situation



Je fais les opérations

$38 + 38 = 76 \text{ €}$   
 Les 2 billets, soit un total 76 €

$105 - 76 = 29 \text{ €}$

Je réponds à la question Il lui restera 29 €.

Entoure la bonne réponse.

Juliette et Valentin ont vu une pyramide Maya qui mesure 24 m, 24 kg. Juliette a acheté 250 g de chocolat, 250 L de chocolat. Valentin a parcouru 500 kg à dos de lama. Sur la plage de Copacabana, Juliette a mis sa serviette à 5 km du bord de l'eau. Valentin a acheté 2,5 kg d'oranges, 2,5 cm d'oranges.

Classe les objets du sac à dos de Juliette du plus lourd au plus léger.

- lampe de poche : 117 g
- duvet : 500 g
- gâteau : 175 g
- sandwich : 264 g
- trousse de secours : 475 g
- gourde : 950 g
- un pult : 200 g

...gourde... duvet... trousse... sandwich... gâteau...  
 ...orange... lampe... poche... gâteau...

Dessine les pièces et les billets nécessaires pour réaliser les sommes demandées.

45 € 52      31 € 98

