



PROBLÈMES (2) ☆☆☆

6

Maman achète des décorations de Noël : une guirlande à 5 € et des boules pour 3 €.

Elle paie avec un billet de 10 €.

Combien d'argent lui rend le vendeur ?

~~10 €~~ → 5 € 3 €

$5 + 3 = 8$

10 € → ~~5 €~~ ~~5 €~~ ~~5 €~~ ~~5 €~~ 2 €

$10 = 8 + 2$ ou $10 - 8 = 2$

le vendeur lui rend 2 €

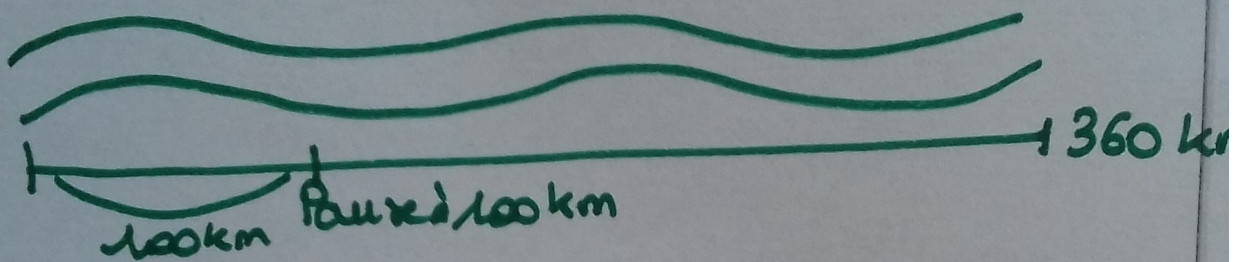


PROBLÈMES (2) ☆ ☆

7

Pour aller en vacances, Simon regarde le GPS de la voiture. La route est longue de 360 km. Quand ils font une pause pour s'arrêter, Simon et ses parents ont déjà parcouru 100 km.

Quelle distance leur reste-t-il à faire ?



$$360 - 100 = 260.$$

Il reste 260 km à faire

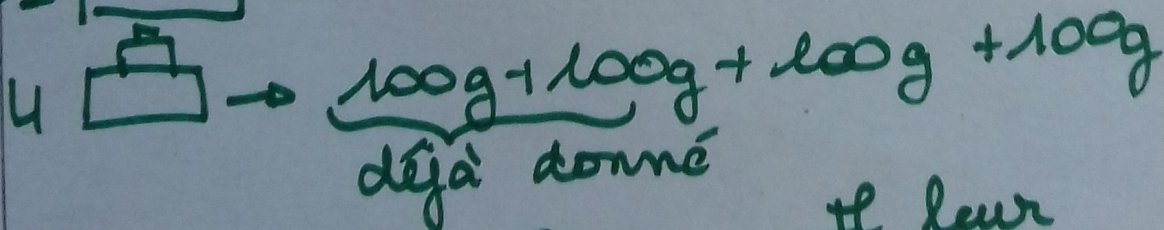
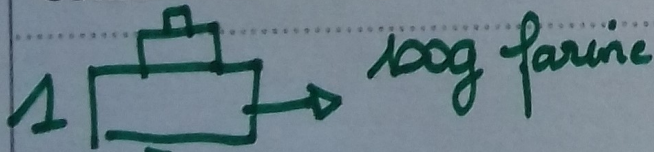


PROBLÈMES (2) ☆ ☆

8

Les enfants préparent quatre gâteaux.
Il faut 100 g de farine pour chaque gâteau.
Le maître a déjà donné 200 g.

Combien de farine leur manque-t-il ?



$$400 - 200 = 200$$

$$\text{ou } 200 + 200 = 400$$

Il leur manque 200g de farine